

Ejercicios semana del 14 de abril a 17 de abril

DEPARTAMENTO DE DIBUJO

2º BACHILLERATO DIURNO. DIBUJO TÉCNICO II. 04/ 14-4-2020

SISTEMA DIÉDRICO. PARALELISMO.

Los vídeos correspondientes a este bloque de PARALELISMO son los siguientes:

- [1. Paralelismo entre rectas. Trazar recta paralela a otra pasando por un punto.](#)
- [2. Planos paralelos. Trazar un plano paralelo a otro pasando por un punto](#)
- [3. planos paralelos. Trazar un plano que pase por un punto y sea paralelo a otro que es paralelo a la línea de tierra](#)
- [4. Plano paralelo a una recta conteniendo a otra](#)

Se adjuntan 2 láminas de ejercicios de paralelismo.

En el documento PDF enviado por correo también tenéis la parte correspondiente a paralelismo.

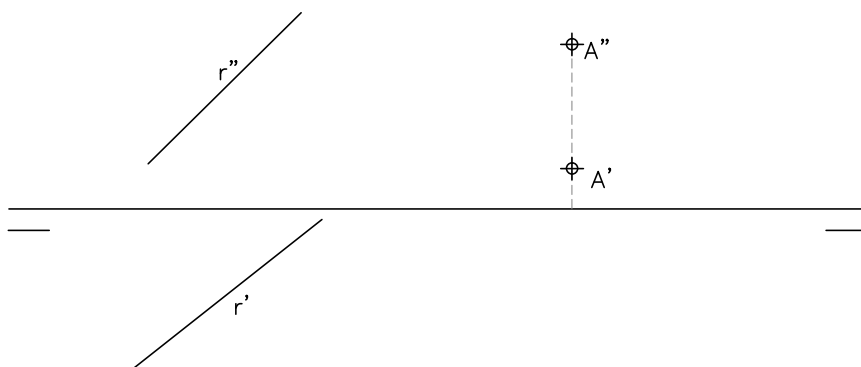
Una vez realizadas las láminas enviáis una imagen (foto o escaneo) al correo de vuestro profesor:

Juan Carlos De La Fuente jfuente@educa.jcyl.es

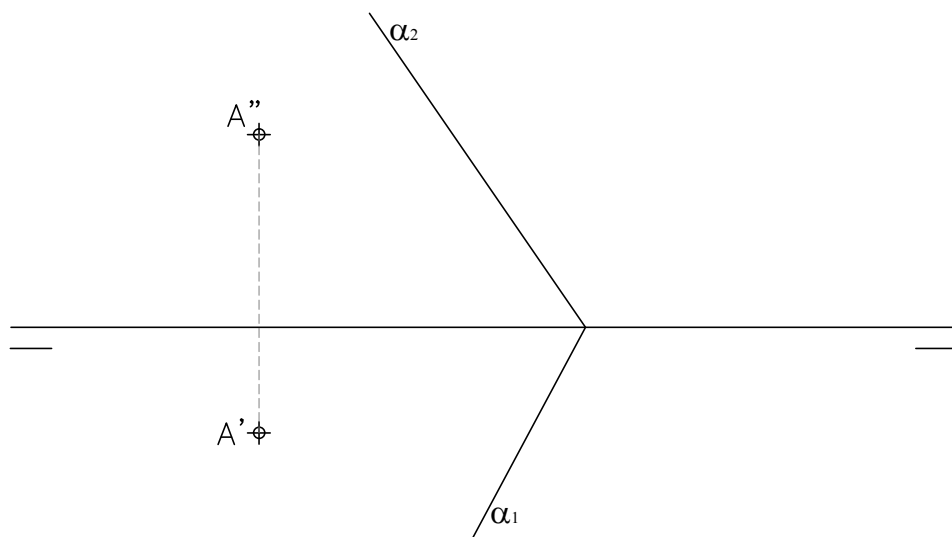
- Fecha límite de envío: 20 de abril.
- Recordar a los que aún no lo han hecho, que tenéis que enviar la imagen del trabajo anterior.



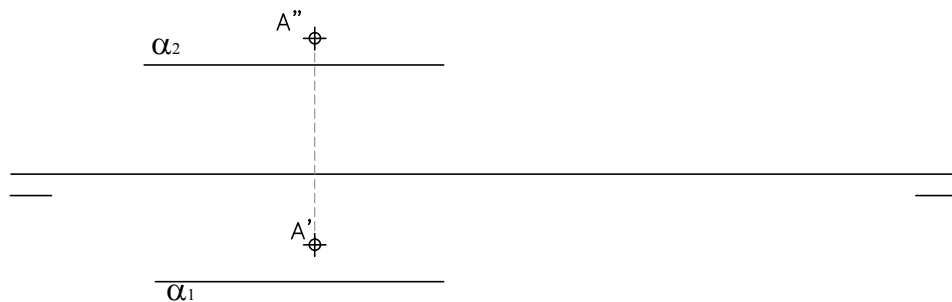
1. Trazar la recta paralela a otra dada r y que pase por un punto A . Representar sus trazas.



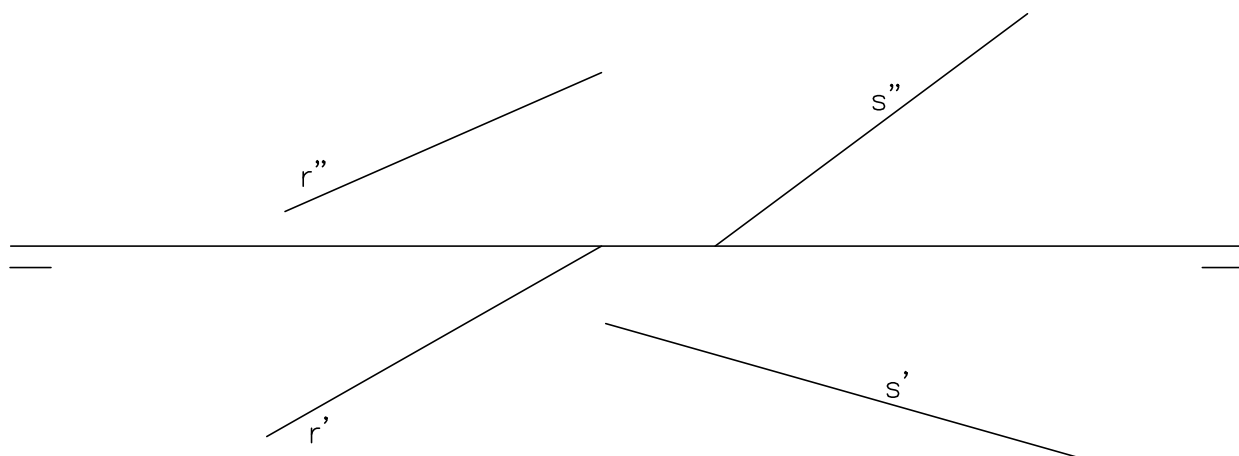
2. Trazar un plano paralelo a otro que pase por el punto A .



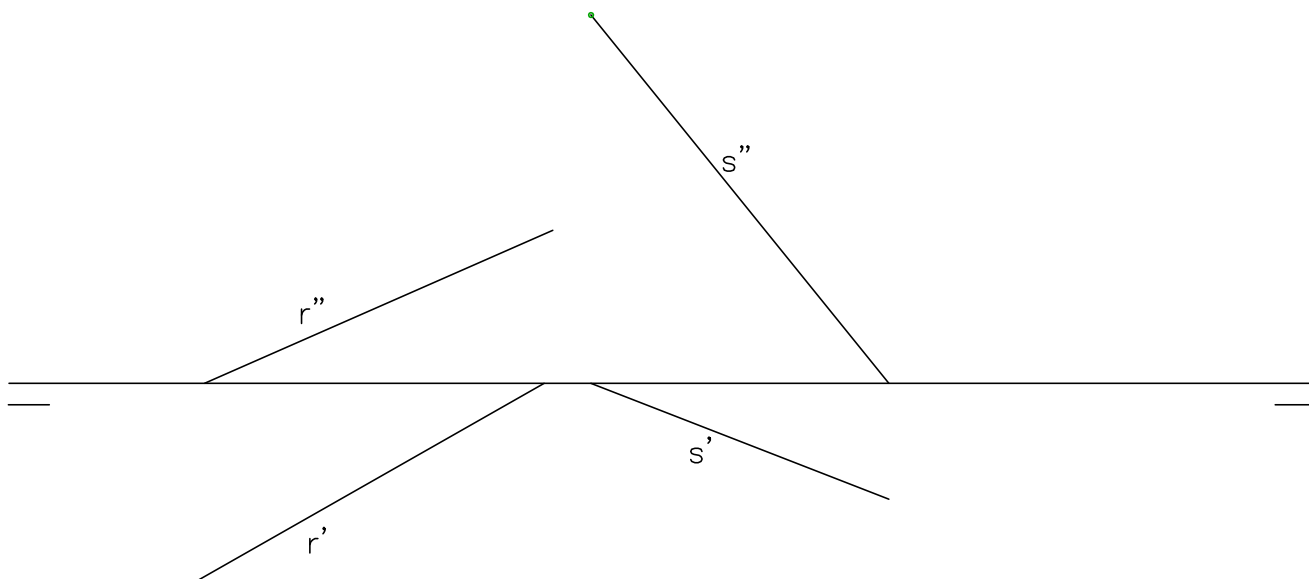
3. trazar por un punto un plano paralelo a otro paralelo a LT.



1. trazar el plano paralelo a la recta r y que contenga a la recta s.



1. Por la recta r, trazar el plano paralelo a otra recta conocida s.



2. Trazar por el punto A un plano paralelo al dado.

