



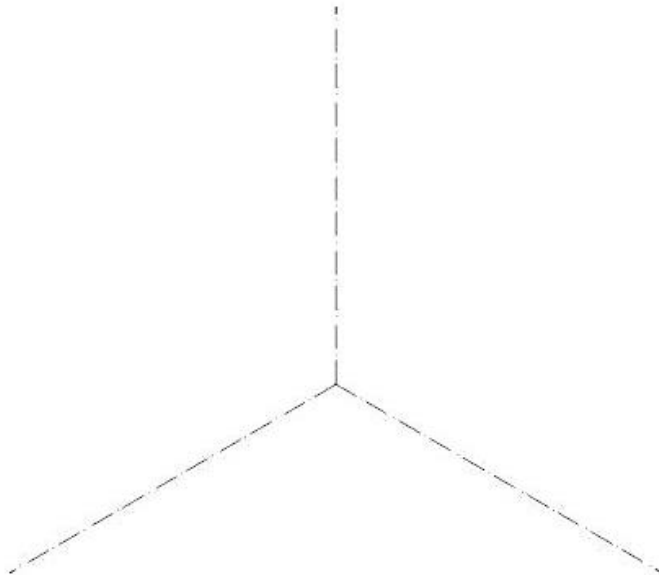
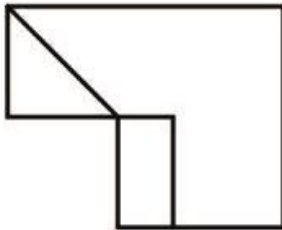
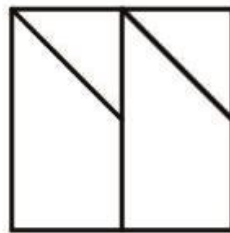
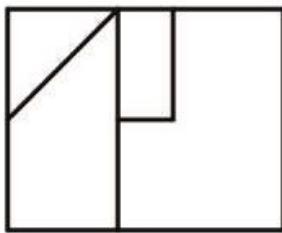
Ejercicios semana del 8 al 14 de junio

DEPARTAMENTO DE DIBUJO. CURSO 1º BACHILLERATO. DIBUJO TÉCNICO I

EJERCICIO 1:

Ajustándose a los ejes del Sistema que se facilitan dibujar, a escala 1/1, el dibujo Isométrico (sin coeficiente de reducción) de la pieza dada por sus proyecciones

Tomar las medidas de las vistas. Dibujar líneas ocultas

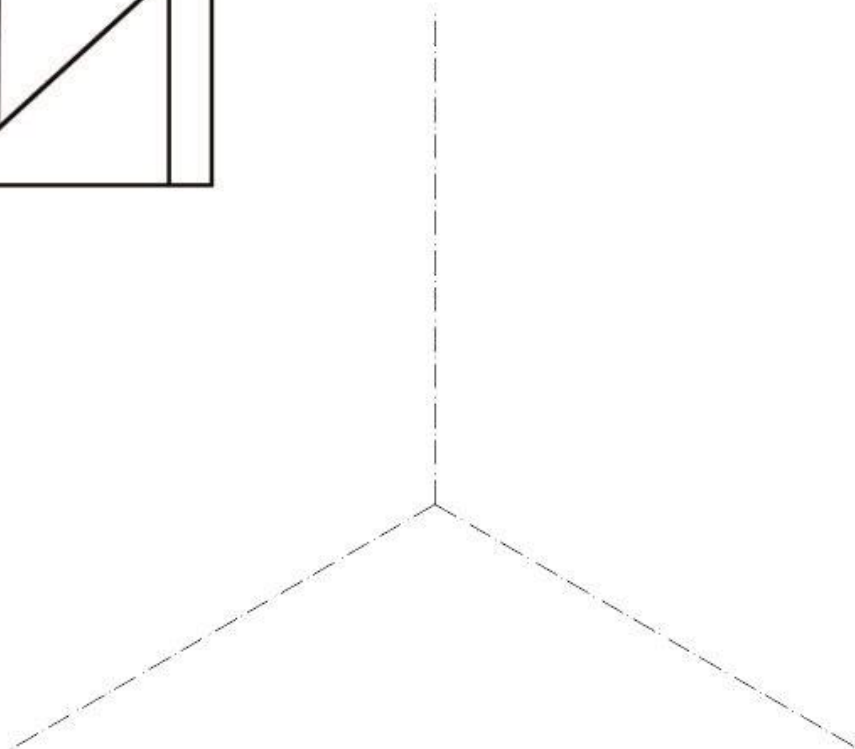
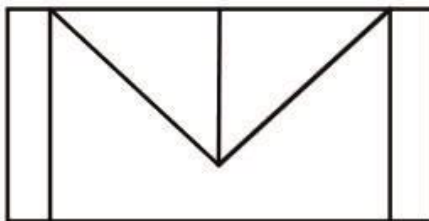
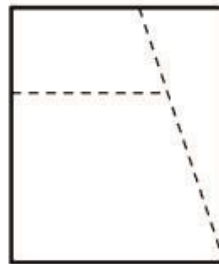
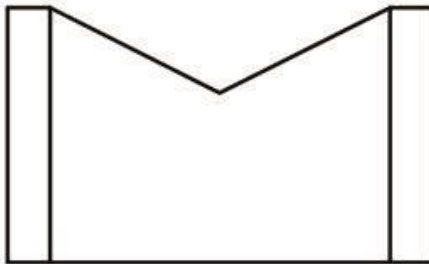




EJERCICIO 2:

Ajustándose a los ejes del Sistema que se facilitan dibujar, a escala 1/1, el dibujo Isométrico (sin coeficiente de reducción) de la pieza dada por sus proyecciones.

Tomar las medidas de las vistas. Dibujar líneas ocultas.



TEMPORALIZACIÓN 1º BACHILLERATO

- Se han tenido en cuenta los horarios presenciales.
- Como en los anteriores, una vez realizado enviáis una imagen (foto o escaneo) del trabajo al correo de vuestro profesor:

Paz Alonso palonsoc@educa.jcyl.es

Inés Luengo iluengomuniz@educa.jcyl.es

. Fecha límite de envío: lunes, 15 de junio.

. Recordar a los que no lo han hecho, que tenéis que enviar la imagen del trabajo anterior.

